



Unité 9



Nom _____ Date _____

1 Le paysage du Niger

www.cons-dev.org/consdev/niger

1. Cliquez sur "La Région de l'Aïr et du Ténéré," puis "Localisation précise." Dans quelle partie du Niger se trouve la réserve?

2. Cliquez sur "Description et inventaire" et "Milieu physique." Voici des expressions qui décrivent l'Aïr et le Ténéré:

massif montagneux

plaine

massif abrupt

sables vifs

îlot de peuplement biologique de type sahélien

Lesquelles de ces expressions décrivent l'Aïr?

A. _____

B. _____

C. _____

3. Lesquelles des expressions décrivent le Ténéré?

A. _____

B. _____

4. Quelle est la superficie (*area*) de la Réserve? _____

5. Regardez le paragraphe "Climat." Quel est le type du climat? _____

6. Comment appelle-t-on les trois saisons différentes?


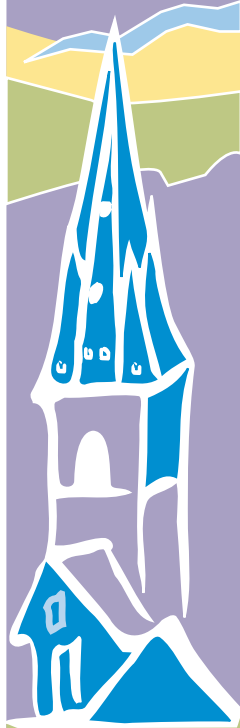
A. _____


B. _____

C. _____

7. Quel est le mois le plus froid? _____

8. Quel est le mois le plus chaud? _____





Unité 9



Nom _____ Date _____

9. Regardez le paragraphe "Faune." Quelles espèces d'animaux y a-t-il dans la faune sahélienne?

A. _____

B. _____

C. _____

10. Est-ce qu'il y a des animaux en voie de disparition dans la réserve du Niger? _____

11. Regardez le paragraphe "Manifestations anciennes de la présence humaine." Le Ténéré a conservé des objets qui représentent quelles populations passées?

A. _____

B. _____

C. _____

12. Regardez le paragraphe "Flore et végétation." Est-ce qu'il y a une végétation plus importante dans l'Aïr ou dans le Ténéré? _____

13. Regardez le paragraphe "Géologie." Où est-ce qu'il y a des roches volcaniques?

